


УТВЕРЖДАЮ  
Первый заместитель начальника  
главного управления по образованию  
Могилевского облисполкома  
  
И.Г. Лошкевич  
« 19 » марта 2024 г.

**ЗАДАНИЯ**  
для проведения городских, районных олимпиад  
по учебным предметам «Всемирная история», «История Беларуси»

Дата проведения: 26.03.2024 г.

Время выполнения заданий: 10.00 – 12.00

**VI класс**

**I. Выберите правильный вариант ответа. Ответ запишите в колонки таблицы.**

**1. Под каким годом в «Повести временных лет» впервые упоминается город Полоцк:** а) 862 г.; б) 980 г.; в) 988 г.; г) 907 г.

**2. Автором поэмы «Шахнаме» является:**

а) Бируни; б) Омар Хайям; в) Фирдоуси; г) Ибн Сина.

**3. Свод законов «Русская правда» был создан:**

а) Иваном III; б) Владимиром Мономахом; в) Василием III; г) Ярославом Мудрым.

**4. Островское соглашение было заключено между:**

а) Ягайло и Кейстутом; б) Ягайло и Витовтом; в) Ольгердом и Кейстутом; г) Ольгердом и Скиргайло.

**5. Чжэн Хэ – это китайский:**

а) император; б) адмирал; в) художник; г) поэт.

**6. Иранцы называли его «Ашаевна» (Суровое море), греки «Понт Эвксинский» (Гостеприимное море). Как его называем мы?**

а) Каспийское море; б) Черное море; в) Средиземное море; г) Мертвое море.

**7. Игра, придуманная в Индии для обучения ратному делу военачальников, в переводе с арабского называлась:** а) Смерть правителя; б) Игры смелых; в) Победить врага; г) Стратегикион.

**8. Великий князь Гедимин:** а) разбил Тевтонский орден на Чудском озере; б) перенес столицу в Вильно; в) возглавил войско в Грюнвальдской битве; г) ввел герб «Погоня».

**9. К 1019 г. относится первое упоминание в письменных источниках о городе:** а) Гродно; б) Пинске; в) Мстиславе; г) Берестье.

**10. В каком году Мухаммед переселился из Мекки в Медину:**

а) 681 г.; б) 622 г.; в) 226 г.; г) 645 г.

**11. Где правил Юстиниан:** а) Византия; б) Англия; в) Греция; г) Римская империя.

**12. Какие племена не относились к варварским:** а) англ и саксы; б) остготы; в) арабы; г) франки.

**13. В тверской летописи сказано: «хвалился Витовт Тохтамыш на Орде посадить, а ... Тохтамыш пообещал ему Москву и всю землю Русскую». Перед какой битвой заключался договор:**

а) Куликовской; б) на Синей Воде; в) Грюнвальдской; г) на Ворскле.

**14. Самая ранняя рукописная книга на территории Беларуси:** а) «Туровское евангелие»; б) «Повесть временных лет»; в) «Слово о полку Игореве»; г) «Похвала Витовту».

**15. Примером гродненской школы зодчества является:**

а) Каменецкая вежа; б) Коложская церковь; в) Спасская церковь; г) Софийский собор.

**! Ответ запишите в колонки таблицы:**

1.	2.	3.	4.	5.	6.	7.	8.	9.	10.
11.	12.	13.	14.	15.					

**II. Установите соответствие между понятиями и их определениями. Ответ запишите в строку после таблицы!**

2

а) родовая община	1) собрание самых старших членов родовой или соседской общины
б) первобытно-общинный строй	2) форма постоянного человеческого коллектива, объединявшая кровных родственников
в) соседская община	3) более высокий уровень развития по сравнению с первобытностью: люди ведут оседлый образ жизни, возникают религия и государство, начинается строительство городов, появляется письменность
г) государство	4) несколько родов, живших в одной местности
д) ремесло	5) человеческий коллектив, члены которого жили семьями, их называли соседями или крестьянами-общинниками
е) цивилизация	6) порядок жизни, при котором люди трудились совместно, имели общее имущество и все, что производили, равномерно распределяли между членами единого коллектива
ж) совет старейшин	7) изготовление изделий ручным способом
з) племя	8) система управления, созданная для организации жизни людей на определенной территории

**Ответ:**

а)	б)	в)	г)	д)	е)	ж)	з)
----	----	----	----	----	----	----	----

### III. Соотнесите:





**А) даты и государственные праздники Республики Беларусь:**

1. 3 июля	А. День Победы			
2. 7 ноября	Б. День Октябрьской революции			
3. 9 мая	В. День народного единства			
4. 17 сентяб- ря	Г. День Независимости Республики Беларусь			
А -	Б -	В -	Г -	

**Б) иллюстрацию и изображенное на ней действие:**

<b>А</b>	<b>Б</b>	<b>В</b>	<b>Г</b>
			
1. Христофор Колумб провозглашает присоединение новых земель к Испании.	2. Клятва вассала	3. Король Иоанн Безземельный подписывает Великую хартию вольностей	4. Крещение Хлодвиг
А -	Б -	В -	Г -

**В) название произведения и его автора:**

<b>А</b>	<b>Б</b>	<b>В</b>	<b>Г</b>
			
1. Джотто	2. Брунеллески	3. Донателло	4. С.Боттичелли
А -	Б -	В -	Г -

**Г) исторических деятелей и связанные с ними исторические источники:**

А) Юстиниан		1) “Жизнь Карла Великого”	
Б) Хлодвиг		2) “Салическая правда”	
В) Каллиник		3) “греческий огонь”	
Г) Эйнгард		4) Кодекс	
А -	Б -	В -	Г -

**Д) государства и даты их образования:**

А) Киевская Русь		1) 962 г.	
Б) Священная Римская империя		2) 1479 г.	
В) Испания		3) 882 г.	
Г) Франкская империя		4) 800 г.	
А -	Б -	В -	Г -

**Е) союзы племен и города, возникшие на территории их проживания:**

А) кривичи		1) Гомель	
Б) поляне		2) Туров	
В) дреговичи		3) Полоцк	
Г) радимичи		4) Киев	
А -	Б -	В -	Г -

**IV. Определите хронологическую последовательность исторических событий:**

- А) переселение Мухаммеда из Медины в Мекку;
- Б) принятие христианства на Руси;
- В) правление императора Юстиниана;
- Г) провозглашение Карла Великого императором.

4

**Ответ:**

**V. Напишите, каким историческим понятиям даны определения.**

1.		Надел земли с крестьянами, который давался пожизненно за несение военной службы в Западной Европе в Раннем средневековье
2.		Крупные собственники земли, представители высшей аристократии в Западной и Центральной Европе
3.		Коллектив кровных родственников
4.		Священнослужители церкви
5.		Укрепленное поселение в железном веке
6.		Получение всего необходимого для жизни у природы в готовом виде

**VI. Найди ошибку.**

Иллюстрируя книгу по истории средних веков, художник изобразил средневековый город XIII в. и его жителей. Но он допустил 3 ошибки. **Найдите эти ошибки и объясните.**






- 1- \_\_\_\_\_
- 2- \_\_\_\_\_
- 3- \_\_\_\_\_
- \_\_\_\_\_
- \_\_\_\_\_
- \_\_\_\_\_
- \_\_\_\_\_
- \_\_\_\_\_

**VII. Определите, какое событие произошло раньше, и отметьте его знаком «+».**

5

	«Ледовое побоище»	ИЛИ		Нормандское завоевание Англии
	Начало Реконкисты	ИЛИ		Образование Полоцкого княжества
	Падение Трои	ИЛИ		Создание поэмы «Илиада»
	Восстание Спартака	ИЛИ		Захват Цезарем власти в Риме

**VIII. Определите содержание данных иллюстраций. Назовите все возможные понятия, связанные с каждым из изображений.**

А	Б	В
		



--	--	--

**IX. Определите, о каком историческом деятеле идет речь.  
С историей какой страны он связан?**

<p><b>А)</b> Он не был князем, однако приобрел великую славу в обороне от крестоносцев Белорусского Понёманья. Был женат на дочери Гедимина Бируте. В 1314 г. возглавил оборону Новогрудка и заставил рыцарей бежать, разгромив их обоз. Возглавил войско ВКЛ в походах на Пруссию, Мазовию, Бранденбург. Во время последнего похода был убит мазовецким рыцарем.</p>	
<p><b>Б)</b> Старший сын Ольгерда, княжил в Полоцке, Витебске. Вёл постоянную борьбу с крестоносцами, совершил большой поход в Ливонию. Участвовал в Куликовской битве на стороне московского князя Дмитрия Ивановича. Его жизнь оборвалась во время битвы с татарами на реке Ворскле в 1399 г.</p>	
<p><b>В)</b> За годы своего долгого правления он почти в два с половиной раза увеличил территорию своего государства. Особое внимание король уделял городам: некоторые из них были перестроены, расширены, обнесены новыми каменными стенами. Поэтому говорили, что он «получил ... (страну) деревянной, а оставил ее каменной»</p>	
<p><b>Г)</b> За время его правления территория государства выросла более чем в пять раз. Женился на племяннице последнего византийского императора Софье Палеолог. При нем государство получило герб двуглавого орла. Перестал платить дань Орде, а после стояния на реке Угре завершил 240-летний период зависимости от Орды.</p>	

[illegible]