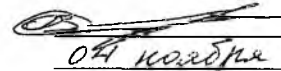


**УТВЕРЖДАЮ**

Первый заместитель  
начальника управления образования  
Могилевского облисполкома

 О.В. Стельмашок  
04 ноября 2014 г.

**Задания для проведения второго этапа республиканской олимпиады  
по учебным предметам «Всемирная история» и «История Беларуси»**

**10 класс**

Максимальное количество баллов за все задания – 160.

Время выполнения заданий 240 минут.

**I. ВНИМАТЕЛЬНО ПРОЧИТАЙТЕ ДОКУМЕНТ И ОТВЕЬТЕ НА ВОПРОСЫ**

*«...Достижение партии состоит в том, что нам удалось организовать этот коренной перелом в недрах самого крестьянства и повести за собой широкие массы бедноты и середняков, несмотря на отчаянное противодействие всех и всяких темных сил, от кулаков и попов до правых оппортунистов...»*

1. Кто автор статьи? Когда она была опубликована? \_\_\_\_\_

2. Что означал для страны этот «коренной перелом»? \_\_\_\_\_

\_\_\_\_\_

\_\_\_\_\_

\_\_\_\_\_

\_\_\_\_\_

\_\_\_\_\_

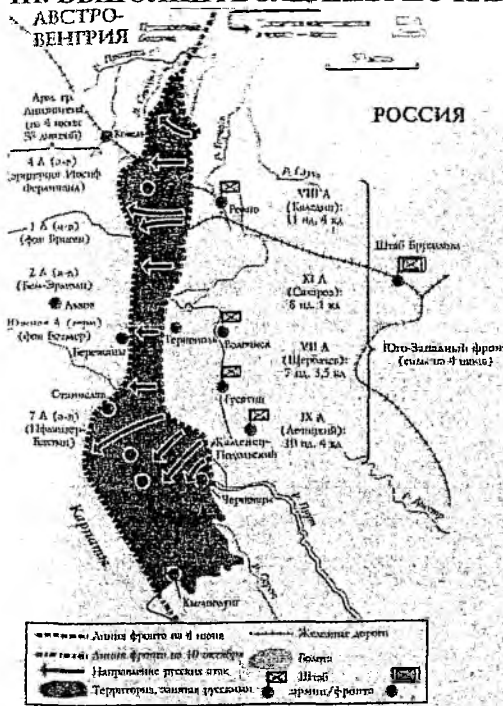
\_\_\_\_\_

**II. ДОПОЛНИТЕ ТАБЛИЦУ «Политические партии в Беларуси в конце XIX — начале XX в.»**

Название партии	Год образования партии	Политические цели
Бунд (Всеобщий еврейский рабочий союз в Литве, Польше и России)	1897	

РСДРП (Российская социал- демократическая рабочая партия)		
	1902	Отстаивали интересы крестьянства, выступали за ликвидацию помещичьего землевладения, свержение самодержавия, образование в России демократической республики. Использовали различные формы борьбы: от пропаганды до индивидуального террора против представителей государственной власти.
БСР (Белорусская социалистическая громада)	1903	

### III. ВЫПОЛНИТЕ ЗАДАНИЯ ПО КАРТОСХЕМЕ



1. В период какой войны проходила данная военная операция?

2. Какое название получила эта военная операция?

3. В каком году проходила данная военная операция?

4. Каковы итоги операции?

#### IV. РАССМОТРИТЕ ИСТОРИЧЕСКУЮ КАРИКАТУРУ И ОТВЕТИТЕ НА ВОПРОСЫ



3. Кто символически изображен слева? Почему нанесен лишь контур этой фигуры?

4. Что означает табличка с надписью «На восток!»?

5. Как называлась политика в сфере международных отношений, представленная на данной карикатуре?

6. Насколько успешной оказалась эта политика?

#### V. ОПРЕДЕЛИТЕ ПРАВИЛЬНЫЙ ОТВЕТ

<p>1. Населення, яке проживало на території Беларусі, ведала жалеза прыкладна:</p> <p>а) у V тыс. да н.э.;  б) у IV тыс. да н.э.;  в) тры тысячы гадоў таму;  г) дзве з паловай тысячы гадоў таму.</p> <p>2. Індаеўрапейскія плямёны, якія прыйшлі на тэрыторыю Беларусі прыкладна пяць тысяч гадоў таму, аздаблялі гліняны посуд адбіткам:</p>	<p>17. Первым рымскім імператаром яўляўся:</p> <p>а) Гай Октавіян Аўгуст;  б) Гай Юлій Цэзарь;  в) Марк Антоній; г) Траян.</p> <p>18. В канце IX в. стрэмітэльна атакавалі страны Цэнтральнай і Южнай Еўропы:</p> <p>а) гунны; б) кельты;  в) венгры; г) арабы.</p> <p>19. Ганза – это:</p> <p>а) военна-політычны саюз</p>
---	---

а) кратаў;	б) рэтушы;	скандинавских королей;
в) галінак;	г) шнура.	б) торговый союз городов Северной Европы;
3. Абрад пераапраанання ў «казу», «мядзведзя» ў час калядавання звязваюць з перажыткам:		в) организация ремесленников городов Северной Европы;
а) татэмізма;	б) анімізма;	г) объединение пиратов северных морей.
в) фетышызма;	г) магіі.	20. Великоморавская держава перестала существовать в начале X в. в результате:
4. Апошнія гады свайго жыцця правяла ў манастыры пад імем чарніцы Анастасіі:		а) внутренних усобиц;
а) Ефрасіння;	б) Рагнеда;	б) разгрома кочевниками-венграми;
в) Вольга;	г) Яраслаўна.	в) завоевания Византийской империей;
5. Вялікае княства Літоўскае XVI стагоддзя – гэта:		г) пресечения правящей династии.
а) раннефеадальная манархія;		21. Монгольское нападение на Японию было остановлено благодаря:
б) абсалютная манархія;		а) уничтожению монгольского флота тайфуном;
в) саслоўна-прадстаўнічая манархія;		б) созданию системы мощных укреплений;
г) феадальная рэспубліка.		в) применению огнестрельного оружия;
6. Справы ваяводскай канцылярыі ў ВКЛ вёў:		г) разногласиям среди нападавших.
а) падваявода;	б) кашталян;	22. Итогом битвы при Пуатье был:
в) ключнік;	г) стайнік.	а) полный разгром англичан;
7. 20–60-я гг. XVI ст. паўстаюць у гісторыі ВКЛ часам:		б) плен французского короля;
а) рэлігійнай барацьбы;		в) переход бургундцев на сторону Франции;
б) верацярпімасці;		г) бунт в английской армии.
в) ідэалагічных праследванняў;		23. Во второй половине XV в. Москве удалось подчинить:
г) абыякавасці да рэлігіі.		а) Рязанское княжество;
8. Купцоў, якія займаліся замежным гандлем, у XV–XVIII стст. у ВКЛ называлі:		б) Северскую землю;
а) прасоламі;	б) гасцямі;	в) Тверское княжество;
в) войтамі	г) старастамі.	г) Смоленское княжество.
9. Пастановы сейму ў Рэчы Паспалітай называліся:		24. В результате войны за испанское наследство:
а) капітулы;	б) статуты;	а) испанские Нидерланды отошли к Англии;
в) універсалы;	г) канстытуцыі.	б) королем Испании остался Филипп Анжуйский;
10. Большасць пратэстанцкіх абшчын на беларускіх землях ВКЛ складалі:		в) французский король значительно
а) кальвіністы;		
б) лютэране;		
в) анабаптысты;		
г) цвінгліяне.		

11. Акт Фларэнцыйскай уніі 1439 г. застаўся толькі на паперы таму, што:	расширил свои владения;
а) не былі выпрацаваны канкрэтныя умовы аб'яднання;	г) Гибралтар попал под контроль Испании.
б) сустрэў супраціўленне кіруючых колаў ВКЛ;	25. В результате термидорианского переворота во Франции в 1794 г. к власти пришли:
в) не знайшоў падтрымкі з боку праваздаўнага насельніцтва;	а) «новые богачи»; б) якобинцы;
г) не знайшлося сродкаў для яго ажыццяўлення.	в) рэялісты; г) жирондисты.
12. Ваад — гэта:	26. В период правления в России Петра I:
а) цэнтральны орган самакіравання яўрэяў;	а) Боярская дума была заменена Сенатом;
б) татарскае гарадское аб'яднанне;	б) коллегии были заменены министерствами;
в) юрыдычны зборнік яўрэяў ВКЛ;	в) создавалась приказная система;
г) другая назва кагала.	г) был создан Верховный тайный совет;
13. На тэрыторыі сучаснай Беларусі на працягу вайны 1812 г. знаходзіўся штаб арміі генерала:	27. Государство маратхов возникло во второй половине XVII в. на территории:
а) Чычагава; б) Баграціёна;	а) Тропической Африки;
в) Баркляя дэ Толі; г) Тормасавы.	б) Центральной Индии;
14. Кі Гельстром і А. Вягелін уваходзілі ў кіраўніцтва:	в) Средней Азии;
а) «Паўднёвага таварыства»;	г) Латинской Америки.
б) «Паўночнага таварыства»;	28. Август Бебель яўляўся:
в) «Прыятычнага таварыства»;	а) лидером Социал-демократической партии Германии;
г) «Таварыства ваенных сяброў».	б) создателем Коммунистической партии Венгрии;
15. Згодна з рэформай дзяржаўнай вёскі Кісялёва сяляне:	в) одним из руководителей Парижской коммуны;
а) атрымлівалі надзелы ва ўласнасць;	г) первым президентом Третьей республики во Франции.
б) пераводзіліся з паншчыны на аброк;	29. Западная Луизиана была присоединена к США в результате:
в) пераводзіліся з аброка на паншчыну;	а) отвоевания у Мексики;
г) атрымалі асабістую свабоду.	б) уступки Испании;
16. Сатрапы — это:	в) освоения колонистами;
а) жрецы культа Митры;	г) покупки у Франции.
б) начальники областей древнеперсидского государства;	30. Восстание ихэтуаней в Китае было направлено, прежде всего, против:
в) крупные землевладельцы-рабовладельцы в древней Персии;	а) маньчжурской династии;
г) тяжеловооруженная персидская армия.	б) иностранцев;

конніца	феодалов-землевладальцаў
завоевателі.	японскіх завоевателі.

## VI. СООТНЕСИТЕ

### 31. Гарады з падзеямі, якія з імі звязаны:

1.	Рыга	А.	Полацкі горад-крэпасць, які размяшчаўся за 340 км ад Полацка
2.	Кукеныйс	Б.	Нямецкая крэпасць, якую не здолеў захапіць полацкі князь Уладзімір
3.	Гольмдэльф	В.	Горад, пад якім «быў смурод ад вельмі вялікай колькасці забітых» у выніку мангольскага ўварвання
4.	Берасце	Г.	Горад-крэпасць, заснаваны ў вусці Заходняй Дзвіны нямецкімі купцамі, рыцарамі і святарамі

1.	2.	3.	4.
----	----	----	----

### 32. Современный вид Софийских соборов с городами.



1.	Киев	2.	Полоцк	3.	Новгород
----	------	----	--------	----	----------

1.	2.	3.
----	----	----

### 33. Средневековые славянские государства с их правителями:

1.	Чехия	А.	Стефан Душан
2.	Польша	Б.	Иван Калита
3.	Сербия	В.	Казимир III Великий
4.	Московское княжество	Г.	Карл IV

1.	2.	3.	4.
----	----	----	----

## VII. РАССТАВЬТЕ В ПРАВИЛЬНОЙ ХРОНОЛОГИЧЕСКОЙ ПОСЛЕДОВАТЕЛЬНОСТИ

34. Мірныя дамовы. А) Андросаўскае перамір'е Б) Дэулінскае пагадненне	35. Падзеі з гісторыі канца 16 – пач. 17 ст. А) паход Ілжэдзімтрыя на Маскву
---	---

В) Паляноўскі дагавор Г) Пераяслаўская рада 1. ____; 2. ____; 3. ____; 4. ____.	Б) Дэўлінскае пагадненне В) смерць Стэфана Баторыя Г) уваход польскага войска ў Маскву 1. ____; 2. ____; 3. ____; 4. ____.
---	---

36. Падзеі з гісторыі Рэчы Паспалітай. А) другі падзел Рэчы Паспалітай Б) капітуляцыя Варшавы войску А.В. Суворова В) абвяшчэнне Канстытуцыі Рэчы Паспалітай Г) пачатак работы Чатырохгадовага сойма	1. ____; 2. ____; 3. ____; 4. ____.
--	-------------------------------------

**VIII. ОТМЕТЬТЕ «ПТИЧКОЙ» В СООТВЕТСТВУЮЩЕМ МЕСТЕ, КАКОЕ СОБЫТИЕ ПРОИЗОШЛО РАНЬШЕ**

История Беларуси	Всемирная история
------------------	-------------------

37.	Правление в Полоцке Рогволода	ИЛИ	Начало первого крестового похода
38.	Битва на Немиге	ИЛИ	Битва при Гастингсе
39.	Обретение независимости Туровским княжеством	ИЛИ	Образование единого Сербского государства во главе со Стефаном Неманем
40.	Крещение Миндовга	ИЛИ	Подписание английским королем Великой хартии вольностей
41.	Островское соглашение между Ягайло и Витовтом	ИЛИ	Осада англичанами Орлеана
42.	Разгром крымских татар около Клеца	ИЛИ	Принятие Иваном IV Грозным титула царя
43.	Строительство Огинского канала	ИЛИ	Начало Северной войны
44.	Принятие Конституции Речи Посполитой	ИЛИ	Начало Великой французской революции

**IX. ВЫЧЕРКНИТЕ ЛИШНИЕ (две позиции в каждом перечислении)**

55. В VII-IX вв. Византийская империя оказалась в кольце врагов, состоявшем из арабов, половцев, болгар, бургундов, вандалов, норманнов.

56. Центрами боярских республик в Древней Руси были Владимир, Псков, Смоленск, Новгород Великий.

57. К числу духовно-рыцарских орденов, созданных в XII в. в Палестине, относились: тамплиеры, базильяне, госпитальеры, меченосцы, тевтоны.



58. Французскими королями в период Высокого средневековья были *Людвиг IX, Генрих Плантагенет, Иоанн Безземельный, Филипп II Август*.
59. К числу выдающихся ученых Средней Азии и Ирана Раннего и Высокого средневековья относятся *Бируни, Ибн Сина, Улугбек, Фирдоуси, Ли Бо, Омар Хайям*.
60. Императора Священной Римской империи выбирали *римский папа, три епископа, три крупных феодала, король Чехии, герцог Бургундии*.

**В X. НАПИШИТЕ, КЕМ ПРИХОДИЛИСЬ В РОДСТВЕННОМ ОТНОШЕНИИ ДРУГ К ДРУГУ УКАЗАННЫЕ ИСТОРИЧЕСКИЕ ЛИЧНОСТИ.**

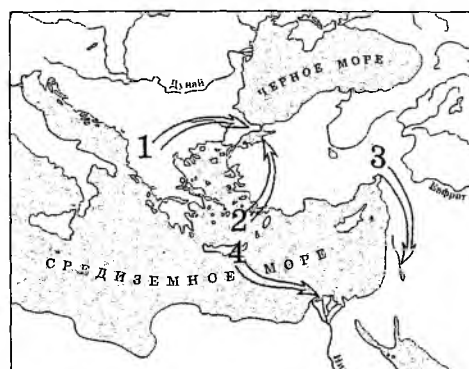
- |     |  |  |
|-----|--|--|
| 61. | Хатшепсут – древнеегипетскому фараону Тутмосу II                   |  |
| 62. | Македонский царь Филипп II – Александру Македонскому               |  |
| 63. | Вильгельм Завоеватель – нормандскому герцогу Роберту Великолепному |  |
| 64. | Брячислав Изяславич Полоцкий – Ярославу Мудрому                    |  |
| 65. | Полоцкая княжна Параскева Брячиславовна – Александру Невскому      |  |
| 66. | Дмитрий Донской – московскому князю Ивану Калите                   |  |
| 67. | Петр II – первому российскому императору Петру I Великому          |  |
| 68. | Наполеон III – французскому императору Наполеону I                 |  |

# ХІ. ВЫПОЛНИТЕ ЗАДАНИЯ ПО КАРТОСХЕМАМ



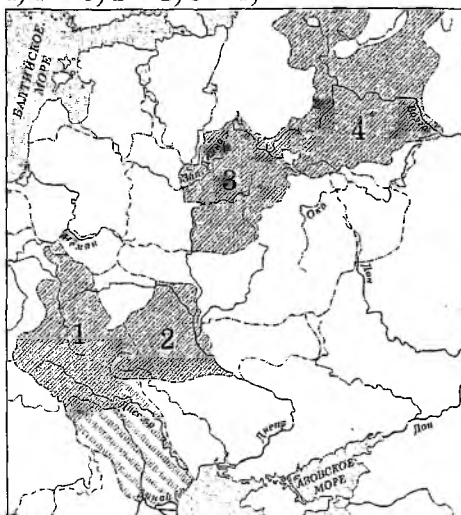
69. Территория Латинской империи обозначена цифрой:

- а) 1 б) 2 в) 3 г) 4



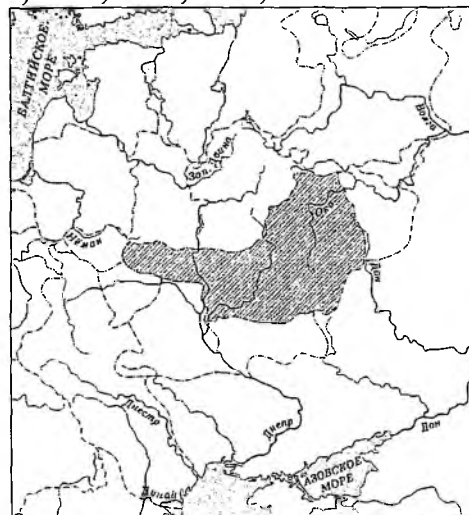
70. Направление первого крестового похода обозначено цифрой:

- а) 1 б) 2 в) 3 г) 4



71. Территория Смоленского княжества обозначена на картосхеме цифрой:













- а) 1 б) 2 в) 3 г) 4



72. На картосхеме заштрихована территория:

- а) Галицкого княжества  
б) Черниговского княжества  
в) Полоцкого княжества  
г) Владимиро-Суздальского княжества

- XII. НАПИШИТЕ, ЧТО ИЗОБРАЖЕНО НА ИЛЛЮСТРАЦИИ. ОТВЕТ ДОЛЖЕН БЫТЬ ТОЧНЫМ.

			
73.	74.	75.	76.
			
77.	78.	79.	80.
			
81.	82.	83.	84.