

КЛЮЧ
XI класс

ЗАДАНИЯ

для проведения второго этапа республиканской олимпиады
по учебным предметам «История Беларуси», «Всемирная история»
(теоретический тур, выполнение тестовых заданий)


Общее максимальное количество баллов – 273.

ТЕОРЕТИЧЕСКИЙ ТУР


Максимальное количество – 157 баллов

Комментарии. Правильные ответы выделены полужирным шрифтом. Необходимо учитывать, что в теоретическом туре в некоторых случаях возможно дать только примерные образцы ответов на вопросы. В основном они построены в соответствии с информацией учебных пособий или информации, представленной непосредственно в карте, документе, таблице и т.д. Но знания заинтересованных и одарённых учащиеся могут быть шире информации учебных пособий. Поэтому в тех случаях, когда ответ не совпадает с предложенным, но является верным, рекомендуется засчитывать его как правильный.

I. Определите, каким государствам Древнего мира принадлежат войска, изображённые на иллюстрациях, и заполните пробелы в таблице.
За это задание вы можете получить 42 балла




1




2



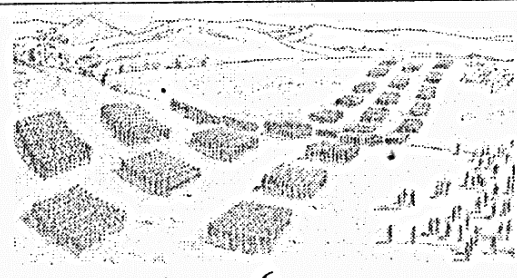
3



4



5



6

№ иллюстраций	Названия стран, войска которых изображены на иллюстрациях	Имена видных государственных деятелей (полководцев)	Наивысшие военные достижения этих личностей
1	Хеттское царство 3 балла	Мурсили II	Подписал первый известный в истории мирный договор с египетским фараоном Рамзесом II.
2	Древний Египет 3 балла	Тутмос III	Совершил более 20 военных походов, подчинил Палестину, Сирию, Нубию. 4 балла
3	Персидская держава 3 балла	Кир II 2 балла	Захватил Малую Азию, на Востоке дошёл до реки Инд, захватил Вавилон, завоевал Египет.
4	Македония 3 балла	Филипп II Александр Македонский 2 балла	Подчинил Грецию. 4 балла Разбил армию персов и завоевал Азию и Египет, создал огромную державу
5	Древний Китай 3 балла	Цинь Шихуанди 2 балла	Объединил Китай, стал первым императором династии, начал строительство Великой Китайской стены 4 балла
6	Древний Рим 3 балла	Сципион Юлий Цезарь 2 балла	Разбил карфагенское войско во время Второй Пунической войны 4 балла Завоевал Галлию.

II. Внимательно прочитайте документ и ответьте на предложенные вопросы.
За это задание вы можете получить 28 баллов.

<...>

У год 1430... князь вялікі Вітаўт хацеў ускласці на сябе карону, але яго непрыяцелі ляхі не прпусцілі яе... І расхварэўся князь вялікі Вітаўт... і ... памёр ... 23 кастрычніка ў дзень памяці святога апостала Якава, брата гасподняга.

І сеў на вялікае княжанне князь вялікі Свідрыгайла Альгердавіч у Вільні і Троках. І княжыў вялікі князь Свідрыгайла два гады без двух месяцаў, і пры сваім княжанні паслаў ён смаленскага ўладьку Герасіма у Царград [для пасвячэння] на мітраполію. І не справіўся [вялікі князь Свідрыгайла] з кіраваннем краіны. І першага верасня пасадзіла літва на вялікае княжанне, у Вільню і Трокі, вялікага князя Жыгімонт Кейстутавіча. Свідрыгайла ж пайшоў у Полацк і Смаленск, і рускія князі і баяры пасадзілі яго на вялікае княжанне Рускае.

У тую восень сабраў князь вялікі Свідрыгайла вялікае войска, і князь вялікі цвярскі Барыс Аляксандравіч даў яму брата свайго князя Яраслава з усім войскам, і пайшоў [Свідрыгайла] на Літву. не дайшоўшы да Вільні шэсць міль, ён прыпыніўся ў Ашмянах і там стаяў тыдзень. І пайшоў князь вялікі Жыгімонт з літоўскім войскам, і адбылася бітва паміж імі 8 снежня, у дзень памяці святога Патанія, у панядзелак. І дапамог Бог вялікаму князю Жыгімонту, і разбілі князя вялікага Свідрыгайлу, і рускіх князёў пабілі, а іншых узялі ў палон...

У тую ж зіму князь вялікі Свідрыгайла другі раз сабраў вялікае войска з Русі і пайшоў на літву, і шмат [яны] паваявалі ў Літоўскай зямлі, і папалілі, і у палон узялі.

Летам жа [Свідрыгайла] сабраў вялікае войска з Русі, і лівонскі магістр з усім сваім войскам прыйшоў яму на дапамогу, і вялікі князь цвярскі прысылаў яму сваё войска. І пайшоў [Свідрыгайла] у Літоўскую зямлю, ...а пад Трокамі стаяў на Спасаў дзень і, прастаяўшы чатыры дні, пайшоў ад Трокаў шукаць вялікага князя Жыгімонта і літоўскае войска. Прастаяўшы ў Вешышках чатыры дні, ён пайшоў на Русь у сваю зямлю. І прыйшоў да Крэва, стаяў два дні, узяў горад Крэва мураваны і спаліў, людзей жа шмат пасек і ў палон пабраў, і пайшоў адтуль да Маладзечна.

<...>

У тую ж восень князь вялікі Жыгімонт сабраў вялікае войска з літвы і ляхаў [палякаў] і прыйшоў на Рускую зямлю, і стаў пад Мсціслаўлем 26 кастрычніка у дзень памяці святога пакутніка Дзмітрыя, у сераду, і стаяў там тры дні і, не здабыўшы горада, пайшоў у сваю зямлю...

<...>

На трэці ж год князь вялікі Свідрыгайла спаліў у Віцебску мітрапаліта Герасіма. Сабраў князь вялікі Свідрыгайла ў Віцебску рускіх князёў і рускае войска і пайшоў да Браслава. Там у Браславе, прыйшоў на дапамогу Свідрыгайлу магістр лівонскі з усім сваім войскам, і пайшлі яны ад Браслава да Завілейскай зямлі, за Вілію да Вількаміра. Князь жа вялікі Жыгімонт сам не пайшоў на Свідрыгайлу. Даў кароль Уладзіслаў 800 коней у дапамогу князю вялікаму Жыгімонту. І князь вялікі Жыгімонт паслаў на князя Свідрыгайлу свайго сына, князя Міхайлу. Князь Міхайла прыйшоў са сваім войскам літоўскім і з ляхамі, і адбылася бітва са Свідрыгайлам на Сёмін дзень, на летапаводца, а біліся пад Вількамірам ля ракі. І за тое Бог не памог князю Свідрыгайлу, што ён спаліў мітрапаліта Герасіма. І дапамог Бог вялікаму князю Жыгімонту і яго сыну Міхайлу, і разбілі яны князя Свідрыгайлу і ўсё яго войска, і шмат князёў забілі, а іншых рукамі палавілі...

<...>

Пасля той бітвы праз тры тыдні сабраў князь Жыгімонт усё сваё войска літоўскае і паслаў свайго сына, князя Міхайлу на Русь. Прыйшоў князь Міхайла да Оршы. І сустрэлі яго ля Оршы смаляне, і паддаліся яны князю вялікаму Жыгімонту і яго сыну, князю Міхайлу... І пайшоў князь Міхайла... ад Оршы да Віцебска... Стаяў 6 тыдняў і, не ўзяўшы горада, пайшоў прэч. Пасля таго ў тую ж зіму князь вялікі Жыгімонт сабраў усё сваё літоўскае войска і паноў і паслаў да горада Полацка. прыйшоўшы, прастаялі яны пад Полацкам тыдзень і, не здабыўшы горада, пайшлі прэч. У наступным жа годзе палачане і віцебляне, не чакаючы ніадкуль дапамогі, паддаліся князю вялікаму Жыгімонту Кейстутавічу. І пачаў княжыць вялікі князь Жыгімонт на вялікім княжанні Літоўскім і Рускім.

(Вытрымка з Беларуска-літоўскага летапісу 1446 г.)

Вопросы и задания	
1) Определите, о каком событии повествует исторический документ. Укажите хронологические рамки события.	
Ответ: Гражданская (дипнастическая) война в ВКЛ (2 балла) 1432 – 1439 гг (2 балла). Итого: 4 балла	
2) Укажите причины, вызвавшие это событие.	
Ответ: Великий князь литовский Витовт умер, не оставив после себя наследников. Условия Городельской унии между ВКЛ и Королевством Польским не были выполнены – выборов великого князя не произошло, Ягайло передал своему родному брату Свидригайло власть	

в ВКЛ (2 балла).

Свидригайло был противником унии с Польшей и пользовался поддержкой православных феодалов, хотя сам оставался католиком. Это вызвало недовольство польских феодалов (2 балла).

Великим князем литовским при поддержке феодалов-католиков ВКЛ был избран Сигизмунд – родной брат Витовта. Началась борьба между Ольгердовичами и Кейстутовичами, которая привела к расколу государства на восточную и западную части (2 балла).

Итого: 6 баллов

3) Кто оказывал поддержку Свидригайло Ольгердовичу, а кто – Сигизмунду (Жыгімонту) Кейстутовичу?

Ответ: Свидригайло Ольгердович опирался на православных феодалов, поддержку ему также оказывали тверской князь и Ливонский орден (3 балла).

Сигизмунд Кейстутович опирался на феодалов католического вероисповедания, поддержку ему оказал польский король Владислав (Ягайло) (3 балла).

Итого: 6 баллов

4) Где и когда произошла решающее сражение? Кому в этом сражении досталась победа?

Ответ: 1 сентября 1435 г. под Вилькомиром (2 балла). Победа досталась Сигизмунду Кейстутовичу (2 балла).

Итого: 4 балла

5) Почему после решающего сражения военные действия продолжались ещё достаточно долго?

Свидригайло Ольгердович издал привилей, уравнивающий в основных правах православных феодалов с феодалами католического вероисповедания (2 балла). Поэтому Виебек, Полоцк и другие города ещё долго оказывали сопротивление, так как там преимущественно проживало православное население (2 балла).

Итого: 4 балла

6. Кому, на ваш взгляд, симпатизирует автор документа – Свидригайло Ольгердовичу или Сигизмунду (Жыгімонту) Кейстутовичу? Кого осуждает. Подтвердите своё мнение словами из текста документа (подчеркните в тексте документа).


Автор документа симпатизирует Сигизмунду Кейстутовичу, так как определяет его победы тем, что так хочет Бог: «*І данамог Бог вялікаму князю Жыгімонту, і разбілі князя вялікага Свідрыгайлу*» (2 балла).

Свидригайло Ольгердовича автор осуждает за то, что тот сжёг митрополита Герасима, поэтому считает, что Бог его не поддерживает: «*І за тое Бог не памог князю Свідрыгайлу, што ён спаліў мітрапаліта Герасіма*» (2 балла).


Итого: 4 балла

III. Определите и укажите историческое событие, которое отражено на каждом из изображений. Укажите год(-ы) события, а также современное название государства, на территории которого произошло событие.


За это задание вы можете получить 18 баллов.




Подписание Великой хартии вольностей, 1215 г., Великобритания
3 балла



Грюнвальдская битва, 1410 г., Республика Польша (Польша)
3 балла



**3. Восстание под руководством Т. Костюшки, 1794 г., Республика Польша (Польша)
3 балла**



**4. Восстание сипаев (Подавление восстания сипаев англичанами), 1857 – 1859, Республика Индия (Индия)
3 балла**



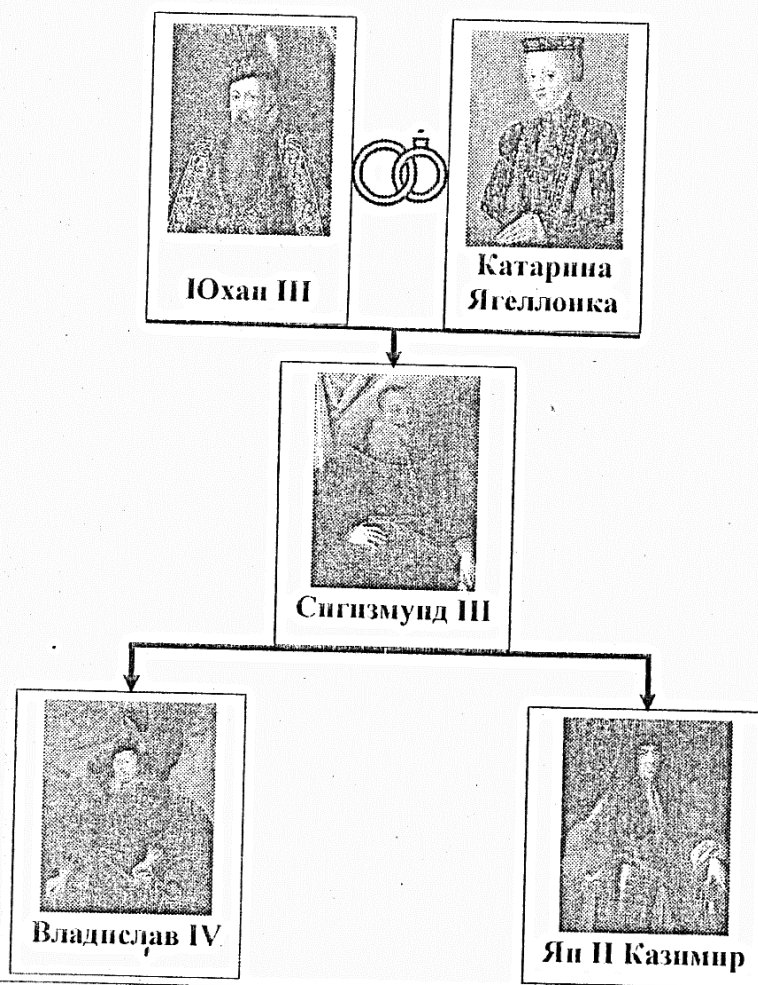
**Капитуляция армии конфедератов во время Гражданской войны, 1865 г., США
3 балла**



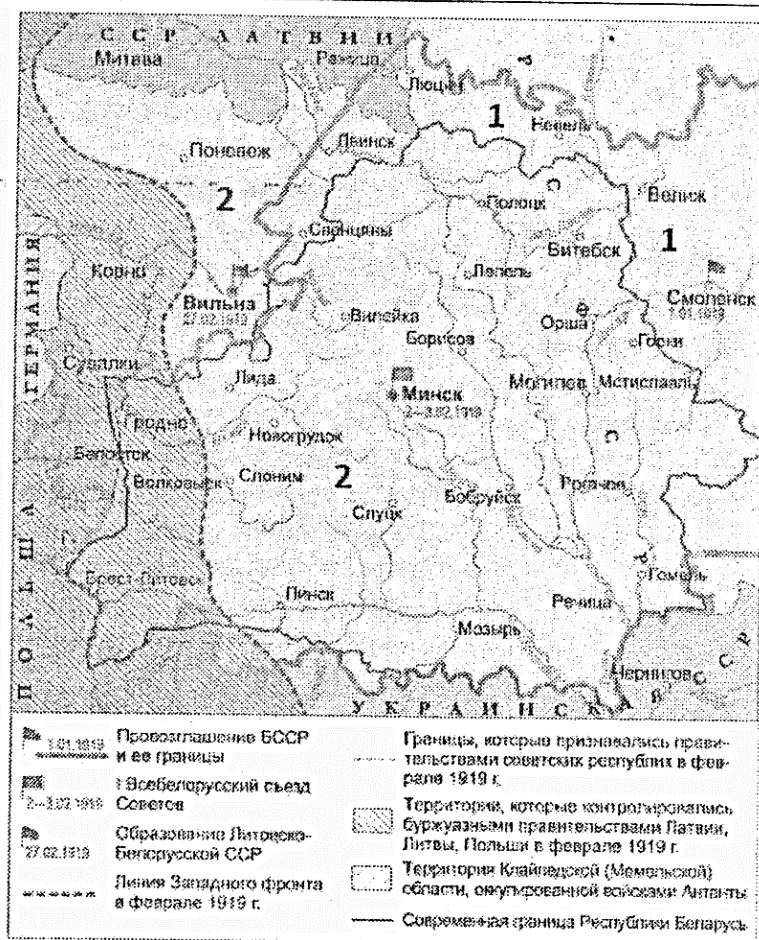
**Освобождение Минска в годы Великой Отечественной войны, 1944 г., Республика Беларусь (Беларусь)
3 балла**

IV. Рассмотрите генеалогическую схему известного королевского рода и ответьте на вопросы.

За это задание вы можете получить 21 балл



V. С использованием информации карты, отражающей историю белорусской государственности, ответьте на предложенные вопросы и выполните задания. За это задание вы можете получить 30 баллов.









Вопрос	Ответ
1. Обозначьте хронологические рамки периода истории Беларуси, показанного на карте.	Январь – февраль 1919 г. 2 балла
2. Напишите названия белорусских государственных образований, относящихся к указанному вами периоду, и территория которых обозначена на карте под № 1 и № 2.	№1. Социалистическая Советская Республика Беларуси (ССРБ) (2 балла); №2. Социалистическая Советская Республика Литвы и Беларуси (Литбел) (2 балла) Итого: 4 балла
3. Напишите название города (-ов), который (-е) был (-и) административным центром белорусского государства, территория которого обозначена на карте под № 1.	Смоленск (2 балла); Минск (2 балла) Итого: 4 балла
4. Напишите название города, который был административным центром государства, территория которого обозначена на карте № 2.	Вильна 2 балла
5. Каким образом с образованием белорусского государства, территория	1) Первым поставил свою подпись под Манифестом Временного рабоче-крестьянского

		2 балла
2	Какая страна первой утвердила данную программу в годы Второй мировой войны? Когда это произошло?	США приняли закон о ленд-лизе 11 марта 1941 г. 4 балла
3	Какие ещё государства приняли участие в данной программе в годы Второй мировой войны?	Великобритания, СССР, Франция, Китай, Канада 5 баллов
4	Чем была вызвана необходимость данной программы в годы Второй мировой войны?	Для успешной борьбы с гитлеровской Германией существовала необходимость в оказании помощи странам антигитлеровской коалиции военной техникой и другими материальными средствами. Например, в военной экономике СССР имелся острый дефицит автомобилей и морской авиации. 3 балла
5	Какую роль данная программа сыграла для победы антифашистского блока в Великой Отечественной и Второй мировой войнах.	Содействовало сплочению стран антифашистского блока и успешному завершению войны против общего врага. Высоко оценивая поставки по ленд-лизу, в СССР их называли «вторым фронтом». 4 балла

ПРАКТИЧЕСКИЙ ТУР

Максимальное количество – 116 баллов

VII. Определите историческую личность по портрету, укажите её фамилию (имя, прозвище) и страну, с которой была связана её деятельность.
За это задание вы можете получить 12 баллов.

		
Перикл, Афины (Древняя Греция) 2 балла	Нэясу Токугава Япония 2 балла	Эмилія Плятэр Российская империя (Россия) 2 балла
		
Кароль Гутген-Чапский, Российская империя (Россия) 2 балла	Маргарет Тэтчер, Великобритания 2 балла	Ольга Корбут, БССР (Беларусь, СССР) 2 балла

VIII. Перед вами определения понятий, связанные с историей Средневековья. Запишите к каждому определению соответствующее понятие.


За это задание вы можете получить 10 баллов.

1	Бенефиций 2 балла	земельное владение, передаваемое сеньором вассалу в пожизненное владение на условиях несения военной службы.
2	Ганза 2 балла	крупный политический и экономический союз торговых свободных городов Северо-Западной Европы, возникший в середине XII века.
3	Донжон 2 балла	главная многоярусная башня феодального замка, служившая местом последней обороны, или отдельно стоящая оборонительная башня.
4	Народность 2 балла	устойчивая общность людей, основанная на общности языка, территории, экономической жизни и культуры, которая образуется в процессе разложения племенных отношений и предшествует нации.
5	Реконкиста 2 балла	процесс отвоевания европейцами-христианами земель на Пиренейском полуострове, занятых арабами.

IX. Рассмотрите изображение ордена и прочитайте отрывок из его статута. Выберите три верных утверждения, относящиеся к данному ордену, и напишите его полное название.

За это задание вы можете получить 10 баллов.

Комментарий: за каждый правильно выбранный вариант ответа – 2 балла, за полное название ордена – 4 балла.



«1. Орденом [...] как высшим военным орденом награждаются лица высшего командного состава Красной Армии за успешное проведение таких боевых операций в масштабе нескольких или одного фронта, в результате которых в корне меняется обстановка в пользу Красной Армии.

2. Награждение орденом [...] производится только Указом Президиума Верховного Совета СССР.

3. Орден [...] носится на левой стороне груди на 12 – 14 см. выше пояса.

(Статут ордена 8 ноября 1943 г.)

1) Изготовлением данного ордена занималась Московская ювелирно-часовая фабрика, так как при его изготовлении требовалась работа с драгоценными камнями.

2) Данный орден использовался при награждении солдат и офицеров за храбрость и мужество в годы Великой Отечественной войны.

3) Орденом могли быть награждены только граждане Советского Союза.

4) Первым человеком, удостоенным данного ордена стал Маршал Советского Союза Г.К. Жуков.

5) Л.И. Брежнев посмертно был лишён этой награды с формулировкой в указе «как противоречащего статуту ордена».

Полное название ордена:

Х. Выберите правильный ответа из предложенных вариантов.

За это задание вы можете получить 20 баллов (по 1 баллу за каждый правильный ответ)

История Беларуси	Всемирная история
<p>1. На Бердыжской стоянке (около д. Подлужье Чечерского района) археологами были обнаружены:</p> <p>а) остатки керамической посуды; б) наиболее древние орудия труда; в) кремнедобывающие шахты; г) самый древний лук и стрелы.</p> <p>2. Первой христианкой на белорусских землях стала:</p> <p>а) Ольга; б) Рогнеда; в) Евфросиния Полоцкая; г) Анна.</p> <p>3. Полоцкая земля вошла в состав ВКЛ во время правления великого князя литовского:</p> <p>а) Витеня; б) Гедимина; в) Ольгерда; г) Кейстута.</p> <p>4. Одним из решений Четырехлетнего («Великого») сейма 1788 – 1792 гг. стало:</p> <p>а) создание Скарбовой комиссии ВКЛ; б) решение об уравнивании в правах диссидентов с католиками; в) предоставление мещанам права избирать послов на сеймы; г) запрещение для шляхты создавать конфедерации.</p> <p>5. Первый участок железной дороги, который проходил через Беларусь, был построен в:</p> <p>А). 1859 г.; б). 1862 г.; в). 1865 г.; г). 1871 г.</p> <p>6. Первой легальной газетой, которая начала издаваться на белорусском языке стала:</p> <p>а) «Газета Гродзенская»; б) «Мужыцкая праўда»; в) «Наша доля»; г) «Наша ніва».</p>	<p>1. Первое известное плавание вокруг Африки осуществили:</p> <p>а) португальцы; б) финикийцы; в) китайцы; г) викинги.</p> <p>2. Итогом Первой Пунической войны стал:</p> <p>а) захват Римом Сицилии; б) полный разгром карфагенян; в) захват греческих колоний на Апеннинском полуострове; г) переход Македонии под власть Рима.</p> <p>3. Первыми среди славян христианство приняли:</p> <p>а) поляки; б) чехи; в) болгары; г) русь.</p> <p>4. Первым избранным русским царём стал:</p> <p>а) Иван IV; б) Борис Годунов; в) Василий Шуйский; г) Михаил Романов.</p> <p>5. Представители династии Цин в Китае были выходцами из:</p> <p>а) Монголии; б) Маньчжурии; в) Кореи; г) Вьетнама.</p> <p>6. К числу условий Вестфальского мира 1648 г. относится:</p> <p>а) присоединение Силезии к Пруссии; б) передача Франции части Эльзаса и Лотарингии; в) уравнивание в правах всех протестантов с католиками; г) объединение всех мелких германских государств в одно государство.</p> <p>7. Принятая во Франции в 1791 г.</p>

<p>7. Столыпинская аграрная реформа предусматривала:</p> <p>а) перераспределение помещичьей собственности;</p> <p>б) ликвидацию отрубов;</p> <p>в) создание хуторских крестьянских хозяйств;</p> <p>г) выделение крестьянам земли из помещичьих владений.</p> <p>8. Первый белорусский художественный фильм «Лесная быль» был снят на студии «Ленфильм» белорусским режиссёром:</p> <p>а) В. Голубком;</p> <p>б) Ю. Таричем;</p> <p>в) В. Туровым;</p> <p>г) М. Пташук.</p> <p>9. Политический и экономический режим, который был установлен в Западной Беларуси в 1926 г., назывался:</p> <p>а) белорусизация;</p> <p>б) национализация;</p> <p>в) либерализация;</p> <p>г) санация.</p> <p>10. Первый советский вокально-инструментальный ансамбль, который выступил в Америке:</p> <p>а) «Сябры»;</p> <p>б) «Песняры»;</p> <p>в) «Верасы»;</p> <p>г) «Самоцветы».</p>	<p>конституция:</p> <p>а) восстанавливала Генеральные штаты;</p> <p>б) провозглашала республику;</p> <p>в) устанавливала режим конституционной монархии;</p> <p>г) устанавливала якобинскую диктатуру.</p> <p>8. Священный союз европейских монархов был создан в 1815 г. с целью:</p> <p>а) противостояния турецкому натиску;</p> <p>б) сохранения существующих в Европе режимов;</p> <p>в) проведения контрреформации;</p> <p>г) восстановления Священной Римской империи.</p> <p>9. К «политике умиротворения» относится следующее событие:</p> <p>а). оформление оси «Берлин – Рим – Токио»;</p> <p>б). подписание «Стального пакта»;</p> <p>в). «Мюнхенский сговор»;</p> <p>г). оформление «Антикоминтерновского пакта».</p> <p>10. Одним из мероприятий лейбористов, которые пришли к власти в Великобритании после Второй мировой войны, было:</p> <p>а) распродажа убыточных государственных предприятий;</p> <p>б) стабилизация курса фунта стерлингов;</p> <p>в) национализация предприятий ключевых отраслей промышленности;</p> <p>г) отмена пошлины на прибыль.</p>
--	--

XI. Правильно соотнесите элементы двух множеств (например: А-1, Б-2).
За это задание вы можете получить 10 баллов.
 Комментарий: принимается только полностью правильный ответ.

1. Исторические события и исторических деятелей, непосредственно связанных с ними (2 балла)

А	«Путь в Каноссу»	1	Урбан II
Б	«Авиньонское пленение пап»	2	Генрих IV
В	Начало крестовых походов	3	Филипп IV Красивый
Г	Создание Священной Римской империи	4	Оттон I
А – 2	Б – 3	В – 1	Г – 4

2. Гербы и названия белорусских городов (2 балла).

А – 3	Б – 4	В – 1	Г – 2



1. Могилёв; 2. Полоцк; 3. Лида; 4. Туров.

3. События истории Нового времени и их даты (2 балла).

А	Начало правления в Китае манчжурской династии Цин	1	1868 г.
Б	Издание Нантского эдикта во Франции	2	1588 г.
В	Реставрация императорской власти в Японии	3	1598 г.
Г	Издание III Статута Вклиного Княжества Литовского	4	1644 г.


А – 4 Б – 3 В – 1 Г – 2

4. Архитектурный памятник и страну, в которой он находится (2 балла).



А – 4

Б – 2



В – 1

Г – 3

1. Испания; 2. Туркменистан; 3. Мексика; 4. Чехия.

5. Уроженцев Беларуси, и их открытия или изобретения (2 балла).

А	К. Шильдер	1	Изобрёл прототип многоступенчатой ракеты
Б	К. Семенович	2	Разработал метод оздоровления воздуха отрицательно заряжёнными частицами
В	А. Чижевский	3	Разработал лазерные диоды, интегральные микросхемы
Г	Ж. Алфёров	4	Построил металлическую подводную лодку-ракетоноситель.





А – 4 Б – 1 В – 2 Г – 3

XII. Расставьте события в правильной последовательности.

За это задание вы можете получить 20 баллов.

Комментарий: принимается только полностью правильный ответ.





1. События из жизни полоцкого князя Всеслава Чародея, представленные на миниатюрах из Радзивилловской летописи (4 балла).

			
А		Б	
			
В		Г	
1 - Б	2 - Г	3 - А	4 - В

2. События Столетней войны (4 балла)

А	Осада Орлеана англичанами	В	Снятие осады Орлеана
Б	Битва при Креси	Г	Битва при Пуатье
1 - Б	2 - Г	3 - А	4 - В

3. Правители Речи Посполитой (4 балла)

А	 Станислав II Август	Б	 Сигизмунд II Август
В	 Стефан Баторий	Г	 Ян III Собеский
1 - Б	2 - В	3 - Г	4 - А

4. События в годы Второй мировой войны (4 балла)

А	Битва на Курской дуге	В	Высадка англо-франко-канадских и американских войск в Нормандии
Б	Нападение Японии на американскую базу Пёрл-Харбор	Г	Битва при Эль-Аламейне
1 - Б	2 - Г	3 - А	4 - В

5. Создание международных организаций (4 балла).

А	Европейское экономическое сообщество	В	Организация Объединённых наций
Б	Организация Североатлантического	Г	Организация Варшавский Договор

	договора		
1 – В	2 – Б	3 – Г	4 – А

XIII. Выберите правильный вариант ответа.

За это задание вы можете получить 8 баллов.

Комментарий: по 2 балла за каждое правильно выполненное задание

1. Верно ли, что:

- Первой алфавитной письменностью в истории стала финикийская письменность.
- Греки модифицировали финикийский алфавит и добавили знаки для обозначения гласных звуков.
 - верно 1;
 - верно 2;
 - верно 1 и 2;**
 - неверно 1 и 2.

2. Верно ли, что:

- Территория, на которой сформировалась белорусская народность, сложилась в начале XIII в.
- Основой формирования старобелорусского языка стала среднебелорусская группа говоров.
 - верно 1;
 - верно 2;**
 - верно 1 и 2;
 - неверно 1 и 2.

3. Верно ли, что:

- На протяжении XVII—XVIII вв. униатство было на белорусских землях самым массовым вероисповеданием.
- Униатство содействовало усилению полонизации населения Беларуси.
 - верно 1;**
 - верно 2;
 - верно 1 и 2;
 - неверно 1 и 2.

4. Верно ли, что:

- После смерти Оливера Кромвеля в Англии окончательно была установлена республика.
- «Билль о правах», принятый английским парламентом в 1689 г. закрепил в Англии абсолютную монархию.
 - верно 1;
 - верно 2;
 - верно 1 и 2;
 - неверно 1 и 2.**

XIV. Определите, какое из событий произошло раньше, и отметьте его знаком ☒ в соответствующем месте.

За это задание вы можете получить 8 баллов.

Комментарий: за каждый верный ответ – 2 балла

1	<input checked="" type="checkbox"/>	Реформы Солона в Афинах	или	<input type="checkbox"/>	Пунические войны
2	<input type="checkbox"/>	Создание II Интернационала	или	<input checked="" type="checkbox"/>	Создание группы «Гомон»
3	<input type="checkbox"/>	Подписание делегацией БССР Устава ООН	или	<input checked="" type="checkbox"/>	Подписание Акта о капитуляции Германии

4	<input checked="" type="checkbox"/>	Разрушение Берлинской стены		Принятие Декларации о государственном суверенитете БССР
---	-------------------------------------	-----------------------------	--	---

XV. Узнайте историческую личность по описанию и запишите фамилию.
За это задание вы можете получить 12 баллов

1	Римский полководец, в 107 г. до н.э. провёл военную реформу, которая позволила сделать шаг к формированию профессиональной армии. Суть реформы заключалась в том, что в легионы стали набирать граждан на длительную службу, даже если они не владели землёй. Оружие легионер получал от государства, служба стала многолетней.	Гай Марий 3 балла
2	Участник восстания 1863 – 1864 гг., был приговорён к 12 годам каторги в Сибири, но смог бежать за границу. В ходе археологических раскопок отыскал древний город, где находилась святилище Зевса. В качестве инженера участвовал в строительстве спортивных объектов в Афинах для первых Олимпийских игр 1896 г. В 1910 г. ему было присвоено звание почётного гражданина Греции.	Мниейко 3 балла
3	Государственный и политический деятель, стал 32-м президентом США. Утвердил программу страхования безработных, так как считал, что оказание помощи безработным должно рассматриваться правительством не как благотворительность, а как долг перед обществом.	Рузвельт 3 балла
4	Народный артист БССР и СССР, музыкант и композитор. Был создателем и руководителем популярного вокально-инструментального ансамбля. После выступления этого ансамбля в Америке пресса назвала его группой, которая заслужила, чтобы ей аплодировали стоя.	Мулявин 3 балла

XVI. Напротив каждого символа напишите полное название международной организации, которой он принадлежит.

За это задание вы можете получить 6 баллов.

1		Содружество Независимых Государств (СНГ) 3 балла
2		Всемирная организация здравоохранения (ВОЗ) 3 балла